



Republika Srbsko  
MINISTERSTVO OSVETY  
ÚSTAV PRE HODNOTENIE KVALITY  
VZDELÁVANIA A VÝCHOVY

VÝTLAČOK PRE ŽIAKA

ZÁVEREČNÁ SKÚŠKA NA KONCI ZÁKLADNÉHO VZDELÁVANIA A VÝCHOVY

TEST  
ZEMEPIS

IDENTIFIKAČNÝ FORMULÁR

MENO, MENO JEDNÉHO RODIČA/INÉHO ZÁKONNÉHO ZÁSTUPCU, PRIEZVISKO ŽIAKA

IDENTIFIKAČNÉ ČÍSLO ŽIAKA

--	--	--	--	--	--	--	--	--	--

ZÁKLADNÁ ŠKOLA \_\_\_\_\_  
MESTO \_\_\_\_\_  
OBEC \_\_\_\_\_


PODPIS DOZORNÉHO UČITEĽA

Výsledky možno pozrieť na portáli **Moja srednja škola**: <https://mojasrednjaskola.gov.rs> vnesením jednotného identifikačného čísla žiaka (desaťciferné heslo žiaka). Na stiahnutie naskenovaného testu v pdf formáte, v časti kde sú sprístupnené výsledky záverečnej skúšky, nevyhnutné je vnieť jednotné heslo testu.

**Jednotné heslo testu:** 170620260848

Ak rodič/iný zákonný zástupca má účet na portáli **Moj esDnevnik** alebo má účet na **Portalu za elektronsku identifikaciju eID.gov.rs**, prostredníctvom ktorého má prístup na portál **Moj esDnevnik**, vtedy, okrem nahliadnutia do výsledkov záverečnej skúšky, na portáli **Moja srednja škola** môže portál využiť aj na ďalšie elektronické služby: podávanie sťažností na výsledky záverečnej skúšky, podávanie elektronickej listiny žiadostí a podávanie elektronickej prihlášky na zápis do strednej školy.

## POKYNY PRE PRÁCU

- V teste, ktorý máš vyriešiť, je **20 úloh**. Na prácu je určených **120 minút**.
- Úlohy nemusíš robiť tým poradím, ktorým sú dané.
- Počas práce môžeš používať grafitovú ceruzku a gumičku, ale nemôžeš používať kalkulačku a mobilný telefón.
- Konečné odpovede a postup napíš **modrým perom**.
- Odpoveď, ktorá je napísaná iba grafitovou ceruzkou, čiernym perom alebo gumovateľným perom, sa neuzná.
- V úlohách s ponúknutými odpoveďami nebudú uznané prečiarknuté odpovede.
- V úlohách s ponúknutými odpoveďami, v ktorých je len jedna odpoveď správna, získavaš 0 bodov, ak okrem správnej odpovedi označíš aj niektorú nesprávnu odpoveď.
- Všími si, že sa úlohy líšia podľa spôsobu, na ktorý máš dať odpoveď.
- Nič nepíš na QR kódy (  ), ktoré sú na každej strane testu.

V niektorých úlohách si zvolíš správnu odpoveď tak, že vyfarbíš vhodný krúžok. V úlohách, ktoré majú viac správnych odpovedí, treba vyfarbiť viac krúžkov. Dbaj na to, aby bol krúžok vyfarbený, lebo len vtedy ti bude odpoveď uznaná.

PRÍKLAD VYFARBENÝCH KRÚŽKOV
<p>V úlohe s jednou správnou odpoveďou</p> <p>Ktoré je hlavné mesto Republiky Srbsko? Vyfarbi krúžok pred správnou odpoveďou.</p> <p><input type="radio"/> Nový Sad <input checked="" type="radio"/> Belehrad <input type="radio"/> Niš <input type="radio"/> Kruševac</p>
<p>V úlohe s viac správnych odpovedí</p> <p>Vyfarbi <b>krúžok</b> pred výrazmi, ktorých súčet je 5.</p> <p><input checked="" type="radio"/> 2 + 3 <input type="radio"/> 1 + 2 <input checked="" type="radio"/> 4 + 1 <input type="radio"/> 2 + 4 <input type="radio"/> 3 + 5</p>

- Ak s prácou skončíš skôr, odovzdaj test a potichu vyjdi von.

Prajeme ti veľa úspechov na skúške!

ZÁVEREČNÁ SKÚŠKA NA KONCI ZÁKLADNÉHO VZDELÁVANIA A VÝCHOVY  
TEST  
ZEMEPIS

1. Ktorá je medzinárodná značka pre východ?  
Vyfarbi krúžok pred správnu odpoveďou.
- ☐ N                      ☐ S                      ☐ E                      ☐ W
2. Ktoré tvary reliéfu na mape sú znázornené zelenou farbou?  
Vyfarbi krúžok pred správnu odpoveďou.
- ☐ pohorie                      ☐ náhorné plošiny                      ☐ nížiny                      ☐ púšte
3. Ktorá planéta sa nachádza na najväčšej vzdialenosti od Slnka?  
Vyfarbi krúžok pred správnu odpoveďou.
- ☐ Saturn                      ☐ Neptún                      ☐ Jupiter                      ☐ Urán
4. Ako sa nazýva pohyb Zeme okolo Slnka?  
Vyfarbi krúžok pred správnu odpoveďou.
- ☐ rotácia                      ☐ akumulácia                      ☐ revolúcia                      ☐ erózia
5. Ktoré sú najväčšie vodné plochy na Zemi?  
Vyfarbi krúžok pred správnu odpoveďou.
- ☐ oceány                      ☐ moria                      ☐ rieky                      ☐ jazerá
6. Ako sa nazýva priemerný počet obyvateľov na jeden kilometer štvorcový?  
Vyfarbi krúžok pred správnu odpoveďou.
- ☐ hustota zaľudnenia                      ☐ prirodzený prírastok
- ☐ natalita                      ☐ mortalita
7. Ktorý kontinent má najmladšiu populáciu?  
Vyfarbi krúžok pred správnu odpoveďou.
- ☐ Európa                      ☐ Afrika                      ☐ Severná Amerika                      ☐ Austrália
8. Ktorá činnosť patrí do terciárneho sektora hospodárstva?  
Vyfarbi krúžok pred správnu odpoveďou.
- ☐ veda                      ☐ lesníctvo                      ☐ pohostinstvo                      ☐ stavebníctvo

9. Na ktorom kontinente sa nachádza najľudnatejší štát na svete?

Vyfarbi krúžok pred správnu odpoveďou.

- ☐ na severno americkom
 ☐ na európskom
 ☐ na africkom
 ☐ na ázijskom

10. Na ktorej pologuli celou svojou rozlohou sa nachádza Európa?

Vyfarbi krúžok pred správnu odpoveďou.

- ☐ severnej
 ☐ južnej
 ☐ východnej
 ☐ západnej

11. V ktorom mesiaci na severnej pologuli je zimný slnovrat?

Vyfarbi krúžok pred správnu odpoveďou.

- ☐ január
 ☐ jún
 ☐ september
 ☐ december

12. Vyfarbi krúžok vo vhodnom políčku tak, že spojíš typy jazier podľa spôsobu vzniku jeho panvy.

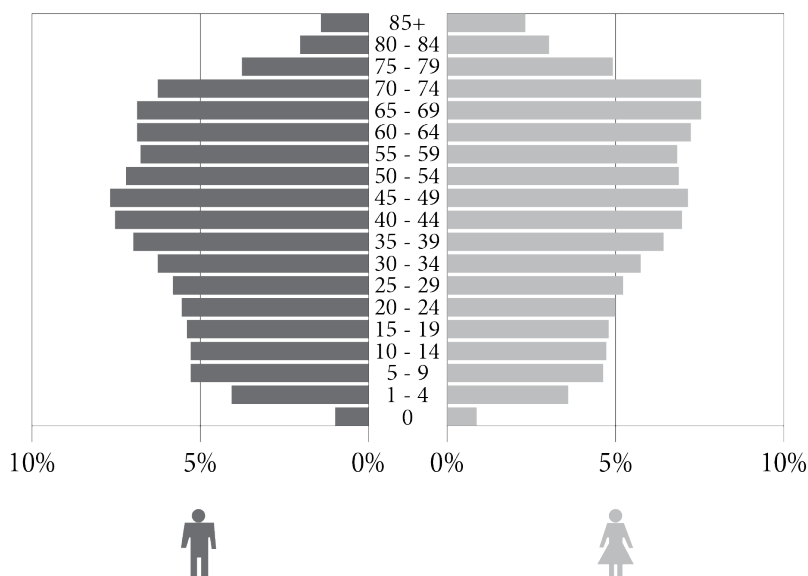
	tektonická	krasová	eolická
Vznikajú, keď voda vyplní vhlbeniny v krasových horninách.	<input type="radio"/>	<input type="radio"/>	<input type="radio"/>
Vznikajú, keď voda vyplní časti pevniny spustené pozdĺž zlomov.	<input type="radio"/>	<input type="radio"/>	<input type="radio"/>
Nachádzajú sa vo vyhlbeninách vytvorených vetrom.	<input type="radio"/>	<input type="radio"/>	<input type="radio"/>

13. Ktorá z uvedených štátov nie je členkou Európskej únie?

Vyfarbi krúžok pred správnu odpoveďou.

- ☐ Bulharsko  
☐ Belgicko  
☐ Švajčiarsko  
☐ Španielsko

14. Ktoré sú charakteristiky pohlavno-vekovej pyramídy Srbska, ktorá je znázornená na obrázku?



Vyfarbi krúžok pred správnu odpoveďou.

- ☐ väčšia prevaha staršieho obyvateľstva v porovnaní s mladým obyvateľstvom
- ☐ najväčší podiel obyvateľstva vo veku 30-34 rokov
- ☐ najväčší podiel mladého obyvateľstva
- ☐ menší podiel žien v porovnaní k mužom vo veku 80-84 rokov

15. Ktorá rieka vyhlbila Ovčarsko-kablarskú roklinu?

Vyfarbi krúžok pred správnu odpoveďou.

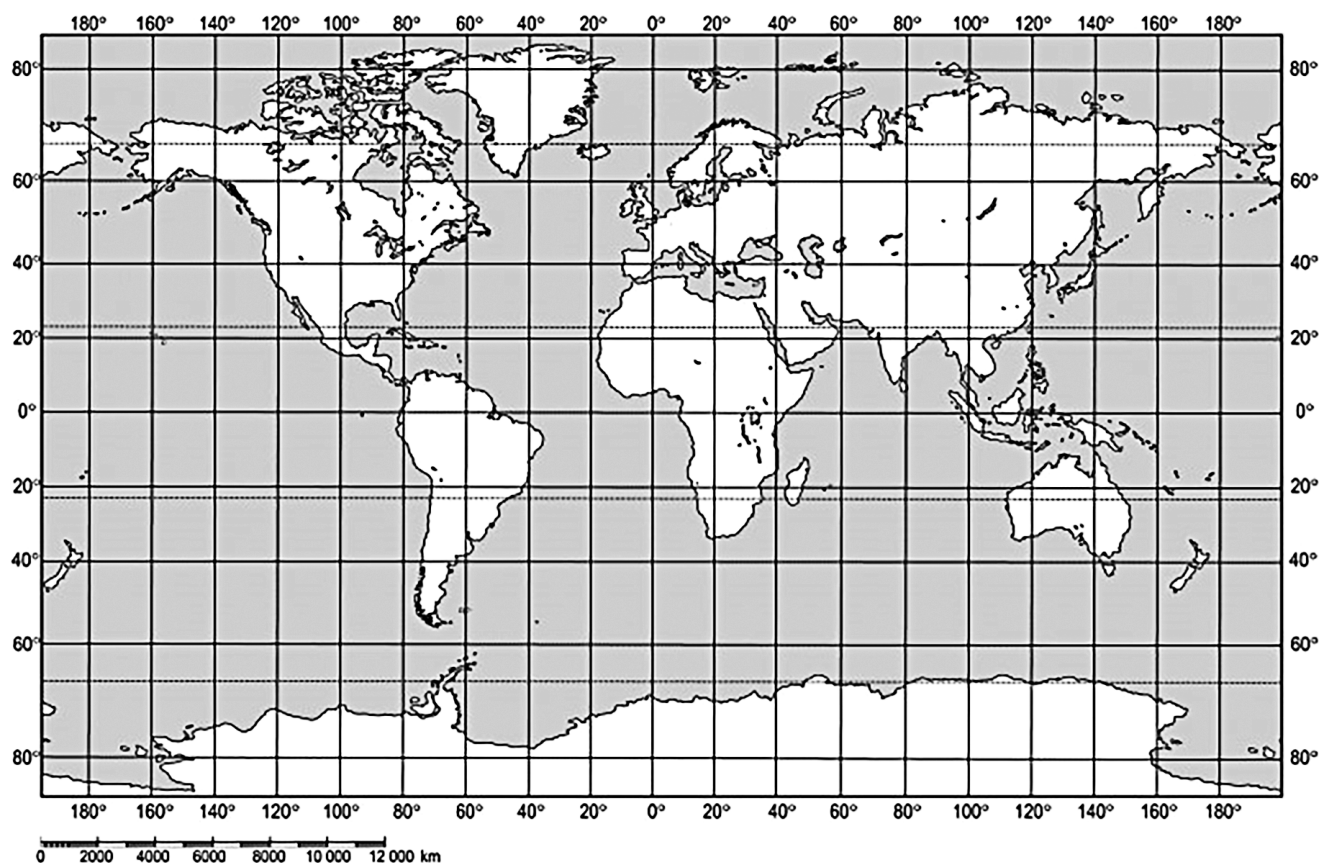
- ☐ Veľká Morava
- ☐ Južná Morava
- ☐ Západná Morava
- ☐ Binačka Morava

16. Ktorá časť Ázie má najčlenitejšie pobrežie?

Vyfarbi krúžok pred správnu odpoveďou.

- ☐ juhozápadná Ázia
- ☐ stredná Ázia
- ☐ južná Ázia
- ☐ juhovýchodná Ázia

17. V ktorom oceáne sa nachádza bod s koordinátami 30° SGŠ a 30° ZGD?



Vyfarbi krúžok pred správnou odpoveďou.

- ☐ Severnom ľadovom oceáne      ☐ Atlantickom      ☐ Indickom      ☐ Tichom

18. Na návštevu si na podujatí *Dni Jovana Cvijića* v Loznici. Do ktorého najbližšieho kúpeľu môžeš urobiť výlet?  
Vyfarbi krúžok pred správnou odpoveďou.

- ☐ kúpele Vrdnik      ☐ kúpele Koviljača      ☐ Sokobanja      ☐ Vrnjačke banje

19. Ktoré štáty sa jednou časťou nachádzajú v Panónskej nížine?  
Vyfarbi **krúžky** pred správnymi odpoveďami.

- ☐ Grécko      ☐ Bulharsko      ☐ Chorvátsko      ☐ Albánsko      ☐ Slovinsko

20. Najdlhšia je rieka Angloamerike. Spája sa s Missouri neďaleko mesta St.Louis. Tečie v poludníkovom smere cez Centrálnu nížinu. Pri ústí do Mexického zálivu tvorí veľkú deltu.  
Ktorá je to rieka?  
Vyfarbi krúžok pred správnou odpoveďou.

- ☐ Mississippi      ☐ Mackenzie      ☐ Mekong      ☐ Murray

# PRÁZDNA STRANA



Republika Srbsko  
MINISTERSTVO OSVETY  
ÚSTAV PRE HODNOTENIE KVALITY  
VZDELÁVANIA A VÝCHOVY

VÝTLAČOK PRE ŠKOLU

ZALEPIŤ IDENTIFIKAČNÚ NÁLEPKU

ZÁVEREČNÁ SKÚŠKA NA KONCI ZÁKLADNÉHO VZDELÁVANIA A VÝCHOVY

TEST  
ZEMEPIS

IDENTIFIKAČNÝ FORMULÁR

MENO, MENO JEDNÉHO RODIČA/INÉHO ZÁKONNÉHO ZÁSTUPCU, PRIEZVISKO ŽIAKA

IDENTIFIKAČNÉ ČÍSLO ŽIAKA

--	--	--	--	--	--	--	--	--	--

ZÁKLADNÁ ŠKOLA \_\_\_\_\_

MESTO \_\_\_\_\_

OBEC \_\_\_\_\_

PODPIS DOZORNÉHO UČITEĽA